

高校2年生・現代社会（担当 大和田）

みなさん、こんにちは。元気になっていますか？体調はどうですか？

次の課題は、休校明けの授業の予習となります。教科書 p. 6～p. 13 を参考にしてプリントの穴埋めを完成させ次の登校日に提出してください。元気に再会できるのを楽しみにしています！

高校2年生 現代社会 課題

教科書を見て、空欄を埋めて次の登校時に提出すること。

テーマ1 ● 地球環境問題

教科書 p. 6～13

地球環境問題

- ①環境問題を地球規模でとらえる考え方は、1972年にスウェーデンのストックホルムで開かれた¹ _____ を契機として急速に広がった。
- ②1980年代には、環境をそこなうことなく開発を進めることが持続的な発展につながるというとらえ方＝「² _____ 」という考え方がなされる。
- ③1992年にブラジルのリオデジャネイロで行われた³ _____ ＝（地球サミット）で、² _____ の考え方は「環境と開発に関するリオ宣言」や「⁴ _____ 」に具体化された。

地球温暖化

- ①地球温暖化の原因…大気中の⁵ _____ の濃度が高まることにある。
- ②⁵ _____ …⁶ _____ ，メタン，亜酸化窒素，フロンなどがあり，⁷ _____ を吸収し，放射熱を食い止めて地球の温暖化をもたらす。
- ③地球温暖化により⁸ _____ の上昇，エルニーニョ現象や集中豪雨などの⁹ _____ をもたらすことが懸念されている。

④1992年の地球サミットで ¹⁰ _____ 条約が採択され、締約国会議 = (¹¹ _____) を中心に国際的取り組みが進められている。

⑤1997年の京都会議では、二酸化炭素の排出抑制に法的拘束力をもつ ¹² _____ が採択された。

→ クリーン開発メカニズム(CDM)や ¹³ _____ などの ¹⁴ _____ の手法で取り組みが進む。

→ 中国を含む発展途上国に削減義務なし、アメリカの離脱など、問題を抱えながらも2020年まで延長された。

⑥2020年以降のポスト京都議定書の新たな国際的枠組みとして、2015年に、¹⁵ _____ が採択された(2016年発効)。

→ 発展途上国を含む国際社会全体が削減に取り組む。

オゾン層の破壊

①オゾン層…生物に有害な ¹⁶ _____ を吸収する天然のバリアである。

② ¹⁷ _____ は成層圏にまで到達し、塩素原子を放出してオゾン層を破壊する。

→ 有害な ¹⁶ _____ が増加し、皮膚がんや白内障の増加や ¹⁸ _____ への悪影響をおよぼす。

③1970年代末頃から南極上空の ¹⁹ _____ の拡大が観測されている。

④1992年にオゾン層保護のためのウィーン条約の ²⁰ _____ 議定書の改定により特定フロン^①の全廃が決まり、先進国ではその生産と消費が打ち切られた。

酸性雨

- ①酸性雨…石炭や石油，天然ガスなどの²¹ _____ の使用で発生する²² _____ や窒素酸化物による大気汚染が引き起こす強い酸性を示す雨は，河川や湖沼へと流入し，土壌の酸性化などにより被害をもたらす。
- ②北欧のスカンディナビア半島，アメリカの五大湖畔などでの²³ _____ や魚類への被害，ヨーロッパでの歴史的建造物への被害が報告されている。
- ③1979年に欧米諸国を中心に²⁴ _____ 条約が採択され，また，酸性雨の継続的な測定なども行われている。

森林の減少と砂漠化

- ①地球上の森林は²⁵ _____ を中心に減少し，地球温暖化や²⁶ _____ の減少などの原因になっている。
- ②森林減少の原因…開墾や²⁷ _____ 耕作，商業用木材生産のための²⁸ _____ ，家畜の²⁹ _____ ，灌漑にともなう³⁰ _____ などである。
→ 不毛の土地になる³¹ _____ が進行している。
- ③1994年に砂漠化の防止と国際協力を進める³² _____ 条約が締結された。

生物多様性の維持とその他の取り組み

- ①生物多様性…地球上の環境にさまざまな生物が適応し，相互に³³ _____ したり，食物連鎖したりする関係が維持されている状態のこと。
- ②行き過ぎた開発，乱獲や³⁴ _____ の伐採，³⁵ _____ の持ちこみ，地球温暖化などの気候変動などによって，³⁶ _____ の減少など，生物多様性の危機を招いている。
- ③³⁷ _____ 条約（特に水鳥の生息地として国際的に重要な湿地に関する条約）では重要な湿地の保全をはかろうとしている。

- ④ ³⁸ _____ 条約（絶滅のおそれのある ³⁹ _____ の種の国際取引に関する条約）は、³⁹ _____ の国際取引を規制している。
- ⑤ ⁴⁰ _____ 条約は、生物多様性の保全と生物資源の持続的利用などを定めている。
- ⑥ 遺伝子組み換え生物の国境をこえる移動に関する ⁴¹ _____ 議定書、³⁶ _____ の利用と公正な利益配分を定めた ⁴² _____ 議定書の採択など、取り組みが進んでいる。
- ⑦ 「有害廃棄物の国境を越える移動及びその処分の規制に関する ⁴³ _____ 条約」も採択されている。

国際協力の動向と日本の取り組み

- ① 2002年に「持続可能な開発に関する世界首脳会議」が開催され、「⁴ _____」の具体的行動指針を示す「実施計画」と「⁴⁴ _____ 宣言」などが採択された。
- ② 2012年には「国連持続可能な開発会議」が開催され、⁴⁵ _____ への移行による、持続可能な社会の形成などが議論された。
- ③ 日本は ¹² _____ の批准以降、国内法を整備し、⁴⁶ _____ 社会の構築に向けて取り組んできた。
- 政府の ⁴⁷ _____ で国際協力の推進をかかげ、国連やアジア太平洋地域への協力、環境分野の政府開発援助（⁴⁸ _____）も推進している。
- ④ 非政府組織（⁴⁹ _____）や民間非営利組織（NPO）の活動の広がりもみられる。

持続可能な開発に向けての課題

- ① 各国が利害をこえた地球的視点から解決に向けた取り組みをする必要がある。
- ② 人間と自然の関係、世代間関係、個と地球全体という関係のあり方を問う ⁵⁰ _____ が問われている。

高校2年3組 日本史B選択宿題【5月10日】

5月9日（土曜日）に登校した生徒は、課題のプリントを、用語集を使って学習を進めて下さい。登校していない生徒に関しては、教科書の392ページ～394ページの朝鮮特需と経済の復興を読んで、わからない用語を日本史用語集で調べ、ノートに書きだして下さい。

高2 世界史B 休校中の課題④

こんにちは、杉田です。おうちでの過ごし方、慣れてきましたか？

私もGW中は連日家にいて、毎日家で過ごしていると、メリハリをもたせるのが難しいと感じました。そこで、私は日頃は家にいるときは常に部屋着（兼 寝間着）を着ていたのですが、少しちゃんとした服装をすることにしました。その格好でもゴロゴロしようと思えばできるのですが笑、少し気持ちがしゃっきりしますよ～。

やらきやという気持ちはあるのに、あまり勉強に手がつかない人は、食事前に少しでもやることをおすすめします！15分～30分でも、やってみよう。慣れてきたら1～2時間。毎食前に取り組めば、1日5時間くらいになります。スゴイ！食後や寝る前に心置きなくゆっくり過ごせるとというのがおすすめポイントです。

さて、今回の課題は、今までの学習内容についての練習問題です。教科書や各国史ノート、資料集、用語集、お助けプリント、インターネット等で調べて構いませんので、なるべく空欄がないようにして下さい。自分で調べるのはOKですが、友だちに答えを聞くのはNGです。うーん、「どこ見たらわかる？」と相談するのはOKにしておきましょう。正誤問題(次の文の中から正しい(or 誤りの)文を選べ、というような問題)は、文のどの部分が誤りなのか書き込みながら解きましょう。答え合わせをするときの吸収力が変わってきます。

答えは解答用紙を印刷して記入しても構いませんし、ルーズリープやレポート用紙に解いても構いません。いずれの場合も、クラス番号氏名の記入を必ずしましょう。

1. 次の文章を読み、後の各問に答えよ。

「日が昇るところ」を意味するオリエントではティグリス川・ユーフラテス川流域のメソポタミアや（ 1 ）川流域のエジプトなどに強力な王権を有する文明が成立した。

メソポタミアでは、①まずシュメール人が下流域に都市国家を建設した。その後、彼らを征服したセム語系の（ 2 ）人がサルゴン1世の時に最初の統一国家を建設した。（ 3 ）人によるバビロン第1王朝はハンムラビ王の時代に全メソポタミアを統一し、②ハンムラビ法典が制定された。しかし、後にインド=ヨーロッパ語系のヒッタイトに滅ぼされた。その後、メソポタミアの北部は（ 4 ）が、南部のバビロニアはカッシートが支配した。③ヒッタイトは小アジアに建国し、（ 5 ）を最初に使用した。④交易の盛んなシリアをめぐってエジプトと争ったが、「海の民」に滅ぼされた。

「（ 1 ）のたまもの」と（ 6 ）によられたエジプトでは、（ 1 ）川の流域に約40のノモスが成立し、王である（ 7 ）が太陽神の子として神権政治を行った。古王国の時代、都の近郊に

位置するギザには⑤クフ王らにより多くのピラミッドが建てられた。⑥テーベを都とした中王国の滅亡後、アジアから（ 8 ）が侵入し、エジプトを支配したが、衰退後に追放され、新王国が成立した。アメンホテプ 4 世は唯一神（ 9 ）の信仰を強制して、遷都した。新しい都では、自由で写実的な（ 10 ）美術が開花したが、王の死後、宗教改革は挫折した。

地中海東岸のシリアではセム語系民族の（ 11 ）人が⑦ダマスカスを中心に内陸貿易で活躍した。またフェニキア人は地中海貿易で活躍した。パレスチナに定住したヘブライ人は、（ 12 ）に率いられた「出エジプト」後に、（ 13 ）を都として王国を建て、全盛期を迎えたが、その後、⑧北部のイスラエル王国と南部のユダ王国に分裂した。

問 1 （ 1 ）～（ 13 ）にあてはまる語句を次の選択肢よりそれぞれ選べ。

- | | | | |
|------------|---------|----------|-----------|
| ア. アッカド | イ. アトン | ウ. アマゾン | エ. アマルナ |
| オ. アムル | カ. アモン | キ. アラム | ク. イエルサレム |
| コ. ヴェルギリウス | サ. シドン | シ. シャー | ス. ソロモン |
| セ. ダヴィデ | ソ. 鑄造貨幣 | タ. ツアーリ | チ. ティルス |
| ト. テオティワカン | ナ. 鉄製武器 | ニ. 図書館 | ネ. ナイル |
| ノ. ヒクソス | ハ. ファラオ | ヒ. ヘロドトス | フ. ミタンニ |
| ホ. メンフィス | マ. モーセ | ム. ラー | メ. ヨハネ |

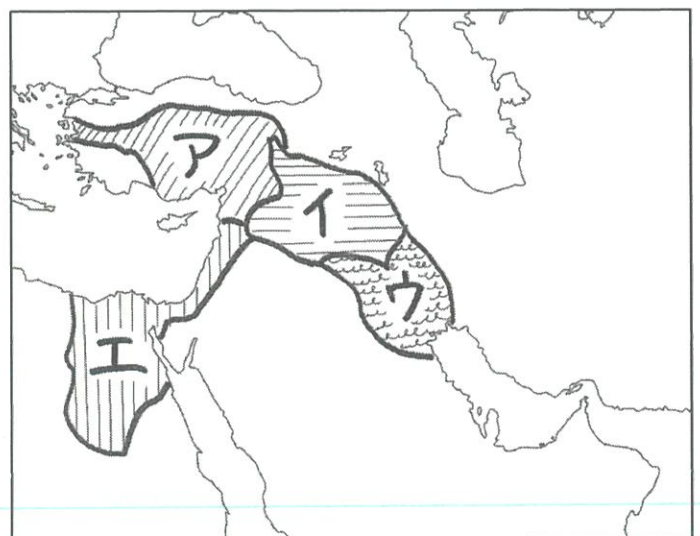
問 2 下線部①について、シュメール人の文明に関する説明として正しいものを次の文より一つ選べ。

- ア. 王が神の化身として自由民や奴隷を支配する神権政治が行われた。
- イ. シュメール人が形成した都市国家の代表的なものにシドンやティルスがある。
- ウ. 都市国家にはジググラトと呼ばれる聖塔が築かれ、その上に神殿が建設された。
- エ. 彼らが発明した楔形文字はヴェントリスによって解読された。

問 3 下線部②について、次の史料はハンムラビ法典の条文を抜粋したものである。それぞれの条文から読み取れるハンムラビ法典の特徴をあげよ。

196 条 もし人が「人の息」（自由民）の眼を潰したるときは、彼の眼を潰す。
 199 条 もし人の奴隷の眼を潰し、或いは…人の奴隷の骨を折りたるときは、(彼は)其の価の半を支払う

問 4 下線部③について、右の地図中の選択肢より、ヒッタイト王国の場所を示しているものを一つ選べ。



問5 下線部④に関して、世界最古の平和条約が結ばれた戦いと、その時のエジプト君主の組み合わせが正しいものを、あとの選択肢より一つ選べ。

【戦い】

【君主】

い. カデシュの戦い ろ. カイロネイアの戦い a. ラメス2世 b. トトメス3世


ア. い-a イ. い-b ウ. ろ-a エ. ろ-b

問6 下線部⑤について、ピラミッドの写真を次の選択肢より一つ選べ。

ア.



イ.



ウ.

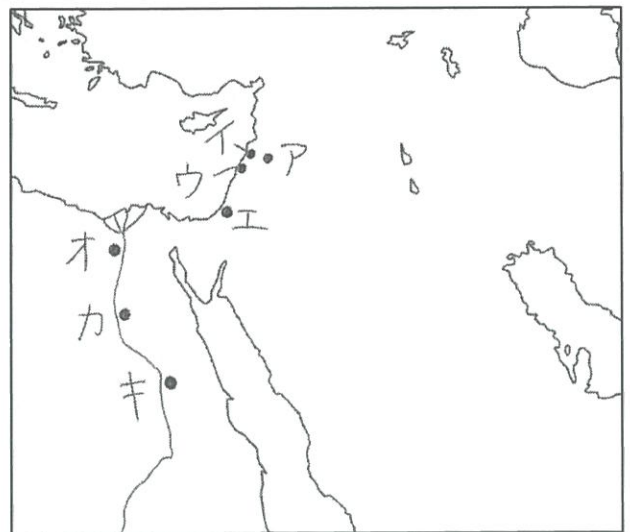


エ.



問7 下線部⑥⑦の位置を示しているものを、右の地図中の選択肢よりそれぞれ選べ。

問8 イスラエル王国を滅ぼした国はどこか。



2. 次の文章を読み、後の各問に答えよ。

北メソポタミアに建国したセム語系のアッシリアは、前7世紀にオリエントの統一に初めて成功して、(1) 王が最大版図を実現した。前8世紀以降、都を(2) に置き、全国を州に分け、各州に総督を派遣した。

アッシリアの滅亡後、オリエントには①、リディア、新バビロニア、エジプトの4王国が分立した。このうち新バビロニアはユダ王国を滅ぼし、住民を都に連行する②を行った。

インド=ヨーロッパ語系のイラン人は前6世紀中頃にアケメネス朝を建国し、4王国を相次いで滅ぼしてオリエントを再び統一した。建国者の(3) は新バビロニアを滅ぼした際にヘブライ人を解放し、彼らはパレスチナへの帰国を果たして③ユダヤ教を成立させた。

アケメネス朝は第3代の(4) の時に全盛期を迎え、全国を約20の州に分け、各州に(5) とよばれる知事を配置して、(6) とよばれた監察官を巡察させた。また、④「王の道」に代表される国道を整備するなど中央集権的な支配を進め、新たな都としてペルセポリスを建設した。

⑤アケメネス朝がアレクサンドロス大王の東方遠征で滅亡した後、オリエントにはヘレニズム諸国が成立した。その一つのセレウコス朝シリアから前3世紀中頃に自立したイラン系の(7) は東西交通路を掌握して繁栄した。

3世紀前半、ローマとの抗争で衰退した(7) は同じくイラン系のササン朝により滅ぼされた。第2代の(8) は⑥ローマ帝国の軍人皇帝ウァレリアヌスを捕え、また東方のクシャーナ朝を破った。6世紀半ばの君主はビザンツ皇帝のユスティニアヌスと争い、⑦また中央アジアの騎馬遊牧民エフタルを滅ぼし、⑧ササン朝の全盛期を築いた。しかし7世紀にアラビア半島から進出した(9) 勢力にニハーヴァンドの戦いで敗れて、後に滅亡した。

問1 (1) ~ (9) にあてはまる語句を次の選択肢よりそれぞれ選べ。

- | | | | |
|---------------|--------------|------------|------------|
| ア. アッシュルバニパル | イ. アンティオキア | ウ. イスラーム | エ. ウイグル |
| オ. 「王の目」「王の耳」 | カ. カッサンドロス | キ. キュロス2世 | ク. クテシフォン |
| コ. サトラップ | サ. シャープール1世 | シ. ダレイオス1世 | ス. ダレイオス3世 |
| セ. ニネヴェ | ソ. ネブカドネザル2世 | タ. パルティア | チ. 仏教 |
| ト. ホスロー1世 | ナ. マウリヤ | ニ. マケドニア | ネ. ユダヤ |

問2 ①にあてはまる国名を答えよ。

問3 ②について、

- (1) あてはまる語句を答えよ。
- (2) これを行った人物を問1の選択肢から選べ。

問4 下線部③に関する次の文a・bの正誤の組み合わせが正しいものを、後の選択肢より1つ選べ。

- ユダヤ教徒では唯一神ヤハウエの信仰と偶像崇拜の禁止が定められている。
- ユダヤ教ではメシア(救世主)待望の観念があり、誰でも必ず救われるとされている。

- ア. a-正 b-正 イ. a-正 b-誤 ウ. a-誤 b-正 エ. a-誤 b-誤

問5 下線部④に関連して、街道に宿駅を設け、物資や情報を人が交代で運び伝える制度を何というか。

問6 下線部⑤について、

(1) このときのアケメネス朝君主を問1の選択肢より選べ。

(2) (1)の人物とアレクサンドロス大王の戦いを、次の選択肢よりすべて選べ。

- ア. イッソスの戦い イ. カンネーの戦い ウ. イプソスの戦い
エ. アルベラの戦い オ. テルモピレーの戦い カ. レウクトラの戦い

問7 下線部⑥の戦いを何というか。

問8 下線部⑦について、ササン朝がエフタルを攻撃するときに協力した騎馬民族を次の選択肢より一つ選べ。

- ア. 柔然 イ. 匈奴 ウ. 大月氏 エ. 突厥

問9 下線部⑧について、ササン朝の国教に関する説明として正しいものを、次の選択肢より一つ選べ。

- ア. この宗教は唐代の中国にも伝わり、景教と呼ばれた。
イ. ササン朝期に経典『アヴェスター』が現在のかたちにまとまった。
ウ. イランの民間信仰に仏教とキリスト教の要素が融合したものである。
エ. この世を善神アフラ＝マズダと悪神ブラフマンの戦いだたとらえている。

3. 次の文章を読み、後の各問に答えよ。

前20世紀頃に成立したエーゲ文明は、(1)文明とミケーネ文明に代表される。(1)文明はクノッソスを中心とし、(2)により発見された。ミケーネ文明はミケーネやティリンスの遺跡に代表され、小アジアのトロイア遺跡と同じく(3)により発見された。ミケーネ文明では、王が農作物や手工業製品を農民から取り立てる貢納王政が行われた。

前8世紀には集住によりポリスが成立し、中心の(4)には神殿が築かれ、広場には公共施設が置かれた。多くのポリスでは小麦の自給が困難であったため、①海外に多くの植民市が建設された。また②同一民族意識が強まり、異民族を(5)とよんで区別した。小アジアの(6)で使用された鑄造貨幣が伝わると、貨幣の使用が盛んとなり、商工業が発展した。安価になった武具を購入した富裕な平民は重装歩兵として活躍し、政治を独占していた貴族に対して参政権を要求した。

前7世紀後半に(7)が従来の慣習法を成文化し、前6世紀には③ソロンが改革を断行した。改革が不調に終わると、不満をもつ平民の支持で(8)が僭主となった。その後、クレイステネスが④陶片追放を実施して、民主政治の基礎を作った。イオニア植民市がアケメネス朝に対し反乱を起こしたことが契機となり、ペルシア戦争が勃発したが、ギリシアが勝利を収め、ペルシアの撃退に成功した。また、その再攻に備え、アテネを中心にポリス間で(9)同盟が結成された。前5世紀後半のアテネでは⑤三段櫂船の漕ぎ手として活躍した無産市民の発言権が増し、⑥ペリクレスの指導のもと民主政が完成した。

前5世紀後半、ギリシアでは（ 9 ）同盟を率いたアテネとペロポネソス同盟を率いた⑦スパルタが対立し、ペロポネソス戦争が起こった。アテネでは（ 10 ）が台頭し、民主政治は腐敗して衆愚政治に陥り、スパルタに敗北した。しかし前4世紀前半にはテーベがスパルタに勝利し、その後もギリシアの覇権をめぐる争いが続いたため、市民の多くは没落し、不足した兵力は傭兵で補われた。

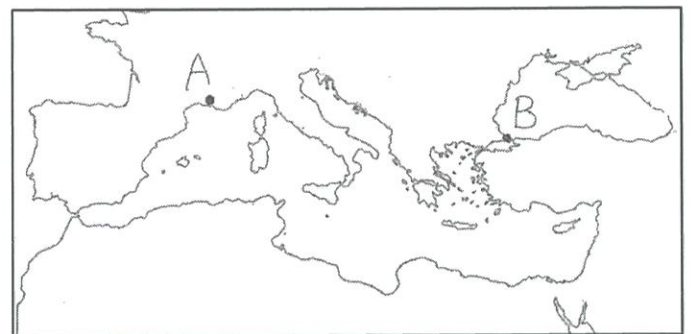
前4世紀後半、マケドニア王のフィリッポス2世はアテネ・テーベの連合軍を破り、ギリシアを制圧した。フィリッポス2世は（ 11 ）同盟を結成して諸ポリスの掌握に努めたが、暗殺された。子の⑧アレクサンドロス大王は東方遠征を行い、アケメネス朝を滅ぼして、ギリシアからインダス川の流域にいたる大帝國を建設した。大王は各地に王名に由来する⑨アレクサンドリアを建設した。しかし大王が亡くなると、（ 12 ）戦争が起こり、結果エジプトにはプトレマイオス朝エジプトが、西アジアには⑩セレウコス朝シリアが、マケドニアにはアンティゴノス朝マケドニアが分立した。これらの王朝は前1世紀後半までに次々とローマにより征服されたが、東方遠征の開始から⑪プトレマイオス朝の滅亡までの約300年をヘレニズム時代とよぶ。

問1 （ 1 ）～（ 12 ）にあてはまる語句を次の選択肢よりそれぞれ選べ。

- | | | | |
|-------------|-----------|-----------|-----------|
| ア. アクロポリス | イ. アゴラ | ウ. ヴェントリス | エ. エヴァンズ |
| オ. カッシート | カ. キプロス | キ. クレタ | ク. クローレス |
| コ. コリントス | サ. シュリーマン | シ. ディアドコイ | ス. デマゴーゴス |
| セ. テミストクレス | ソ. デロス | タ. ドラコン | チ. バルバロイ |
| ト. ペイシストラトス | ナ. ヘレネス | ニ. ミタンニ | ネ. リディア |
| ノ. レオニダス | ハ. ローリンソン | | |

問2 下線部①について、右の地図中A・Bと植民市の名称の組み合わせが正しいものを、後の選択肢より一つ選べ。

- | | |
|------------|-----------|
| ア. A—マッサリア | イ. A—シラクサ |
| ウ. B—マッサリア | エ. B—シラクサ |



問3 下線部②について述べた次の文より、正しいものを一つ選べ。

- ア. ギリシアの各ポリスは、重要事項の決定に際し、デルフォイの神託を行った。
- イ. 各ポリスは獣骨や亀甲を用いた占いによって政治を行った。
- ウ. 神域とされたネアポリスで4年に一度祭典が行われ、期間中はいっさいの戦いが中止された。
- エ. ギリシア人は靈魂の不滅を信じてミイラをつくり、死者の書とともに埋葬した。

問4 下線部③の改革の内容に関する次の文 a・b の正誤の組み合わせが正しいものを、後の選択肢より一つ選べ。

a 戦争捕虜を奴隷にすることを禁じ、重装歩兵の強化を図った。

b 財産の額で政治参加の度合いが決まる財産政治を実施した。

ア. a-正 b-正 イ. a-正 b-誤 ウ. a-誤 b-正 エ. a-誤 b-誤

問5 下線部④を実施した目的を簡潔に説明せよ。

問6 下線部⑤に関連して、ペルシア戦争において無産市民が三段櫂船の漕ぎ手として活躍した戦いを、次の選択肢より一つ選べ。

ア. アブキール湾の戦い イ. レパントの海戦 ウ. プレウエザの海戦 エ. サラミスの海戦

問7 下線部⑥について、アテネの民主政に関する次の文の下線部に誤りがあればその記号を、すべて正しければオと答えよ。

ア. 直接民主政で、最高議決機関は18歳以上の男性市民から成る民会だった。おもな官職は將軍など一部を除き、イ. 選挙で選ばれた。役人や政治家の責任を追及するため、ウ. 弾劾裁判が行われた。なお、アテネの総人口の3分の1を占めたとされるエ. 奴隷や、女性、在留外人には参政権がなかった。

問8 下線部⑦について、スパルタの説明として正しいものを、次の選択肢より一つ選べ。

ア. イオニア人が先住民を征服して成立したポリスである。

イ. 市民はリュクルゴスの制に基づき、男女とも厳しい軍事訓練を受けた。

ウ. 市民の団結を維持するため、商業活動や貴金属、鑄造貨幣の使用が禁止されていた。

エ. 隷属民として、農耕奴隷のペリオイコイや商工業に従事したヘイロータイがいた。

問9 下線部⑧の人物の家庭教師をつとめたギリシアの哲学者を次の選択肢より一つ選べ。

ア. アリストテレス イ. ホメロス ウ. ソクラテス エ. プラトン

問10 下線部⑨に関する次の文 a・b の正誤の組み合わせが正しいものを、後の選択肢より1つ選べ。

a 大王が東西文明の融合を目的として建設した、ローマ風の都市だった。

b 特にシリアのアレクサンドリアが栄え、ムセイオンを中心に自然科学が発展した。

ア. a-正 b-正 イ. a-正 b-誤 ウ. a-誤 b-正 エ. a-誤 b-誤

問11 下線部⑩について、この国から紀元前3世紀半ばに独立したギリシア系の国を何というか。

問12 下線部⑪について、滅亡時のプトレマイオス朝の君主は誰か。

(おわり)

おつかれさまでした！次回は古代ローマについて話をしていきます。イタリア半島の都市国家だったローマが、なんと、地中海を取り囲むような大帝国にまで発展します。カエサル、クレオパトラといった有名人も登場しますよ～。お楽しみに！

高2 世界史B 休校中の課題④

【解答用紙】

1.

| | | | | | | | | | |
|-------|------|------|-----|-----|------|-----|-----|-----|------|
| 問1(1) | (2) | (3) | (4) | (5) | (6) | (7) | (8) | (9) | (10) |
| | | | | | | | | | |
| (11) | (12) | (13) | 問2 | 問3 | 196条 | | | | |
| | | | | | | | | | |
| 199条 | | | | | | | | | |
| | | | | | | | | | |
| 問4 | 問5 | 問6 | 問7⑥ | ⑦ | 問8 | | | | |
| | | | | | | | | | |

2.

| | | | | | | | | |
|-------|-----|-----|-------|-----|-----|-----|-----|-----|
| 問1(1) | (2) | (3) | (4) | (5) | (6) | (7) | (8) | (9) |
| | | | | | | | | |
| 問2 | | | 問3(1) | | | | (2) | 問4 |
| | | | | | | | | |
| 問5 | | | 問6(1) | (2) | | | 問7 | |
| | | | | | | | | |
| 問8 | 問9 | | | | | | | |
| | | | | | | | | |

3.

| | | | | | | | | | |
|-------|------|-----|-----|-----|-----|-----|-----|-----|------|
| 問1(1) | (2) | (3) | (4) | (5) | (6) | (7) | (8) | (9) | (10) |
| | | | | | | | | | |
| (11) | (12) | 問2 | 問3 | 問4 | | | | | |
| | | | | | | | | | |
| 問5 | | | | | | | | | |
| | | | | | | | | | |
| 問6 | 問7 | 問8 | 問9 | 問10 | 問11 | | | 問12 | |
| | | | | | | | | | |